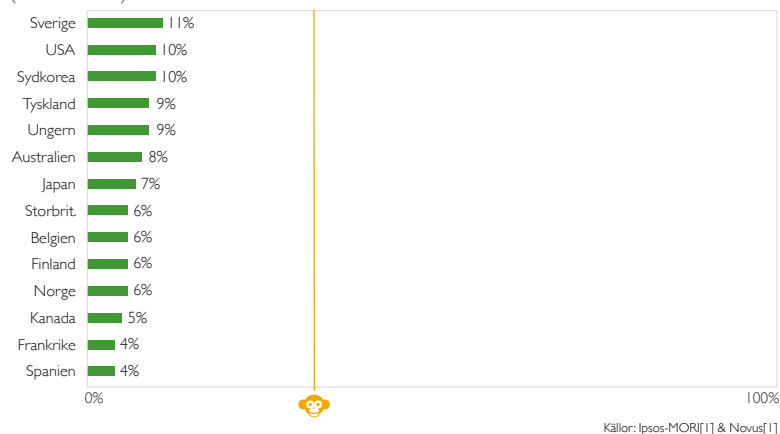


Bild/diagram 126

RESULTAT FAKTAFRÅGA 1: andel som svarade rätt.

I alla låginkomstländer i världen, hur många flickor går idag ut grundskolan?

(Rätt svar: 60%.)

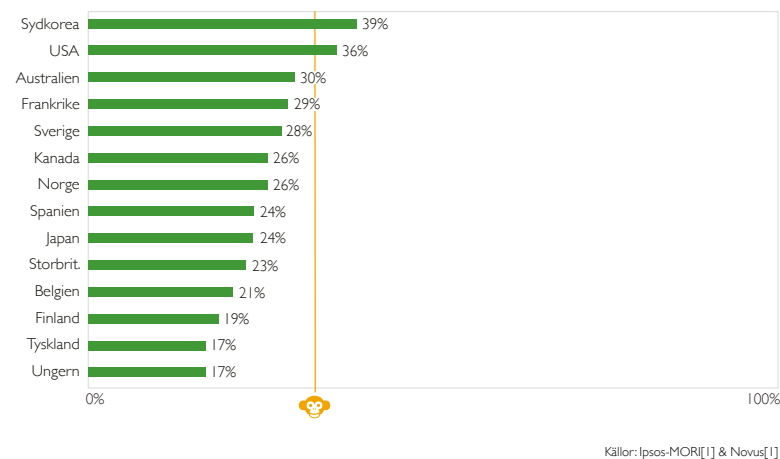


Bild/diagram 127

RESULTAT FAKTAFRÅGA 2: andel som svarade rätt.

Var bor majoriteten av världens befolkning?

(Rätt svar: medelinkomstländer.)

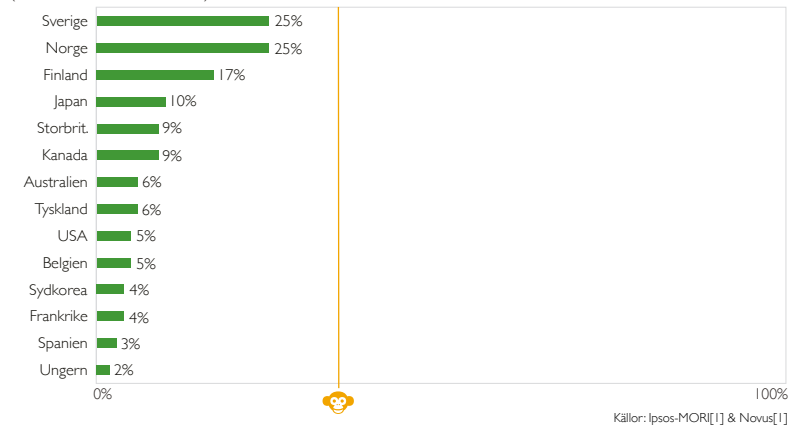


Bild/diagram 128

RESULTAT FAKTAFRÅGA 3: andel som svarade rätt.

Under de senaste 20 åren har andelen människor som lever i extrem fattigdom i världen...?

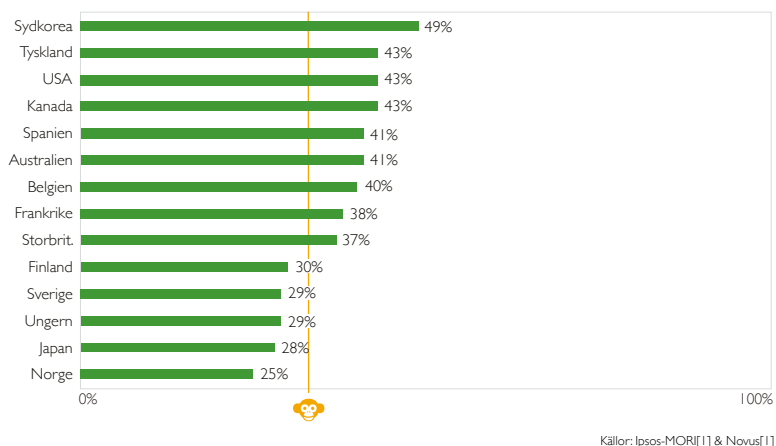
(Rätt svar: nästan halverats.)



Bild/diagram 129

RESULTAT FAKTAFRÅGA 4: andel som svarade rätt.

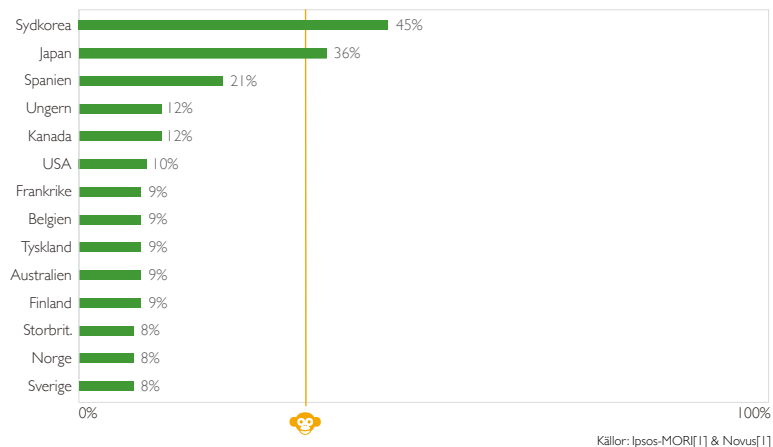
Vilken är medellivslängden för världens befolkning i genomsnitt?
(Rätt svar: 70 år)



Bild/diagram 130

RESULTAT FAKTAFRÅGA 5: andel som svarade rätt.*

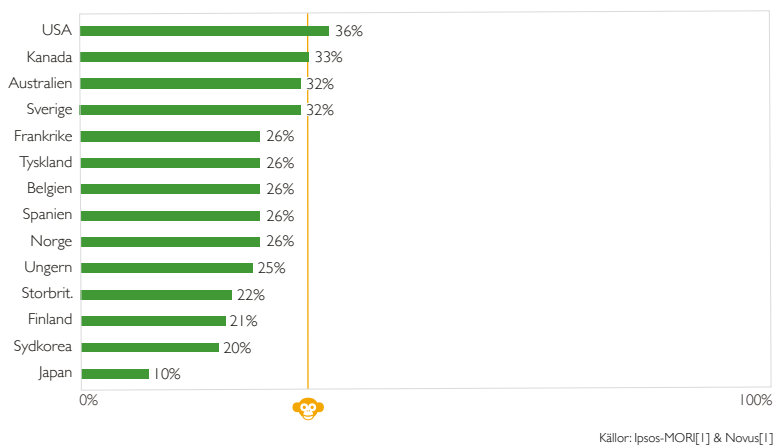
Det finns idag två miljarder barn i världen i åldern 0 till 15 år. Enligt FN, hur många barn kommer det finnas år 2100? (Rätt svar: 2 miljarder)



Bild/diagram 131

RESULTAT FAKTAFRÅGA 6: andel som svarade rätt.

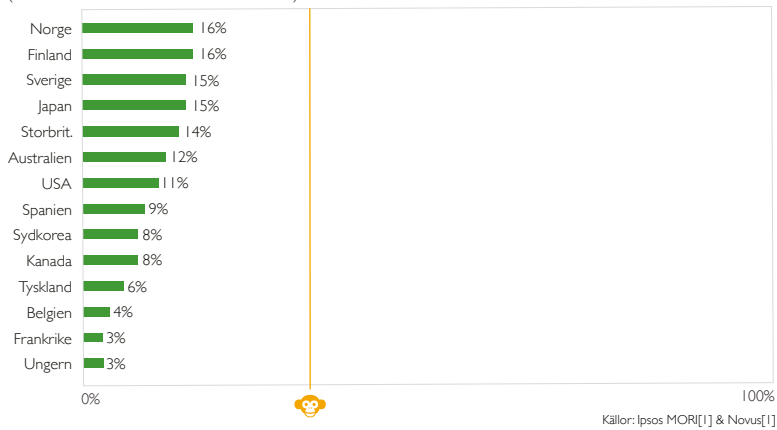
FN förutspår att år 2100 har världens befolkning ökat med ytterligare 4 miljarder människor.
Vilken är huvudanledningen? (Rätt svar: Fler vuxna, 15 till 74 år)



Bild/diagram 132

RESULTAT FAKTAFRÅGA 7: andel som svarade rätt.

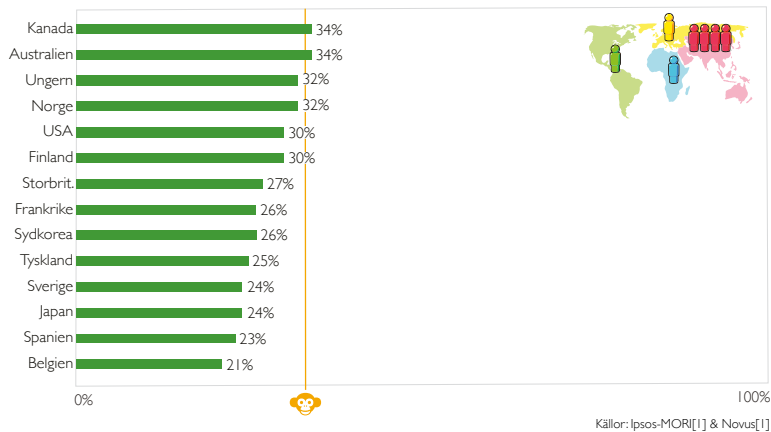
Hur har dödsiffran per år från naturkatastrofer förändrats under de senaste hundra åren?
(Rätt svar: minskat till mindre än hälften.)



Bild/diagram 133

RESULTAT FAKTAFRÅGA 8: andel som svarade rätt.

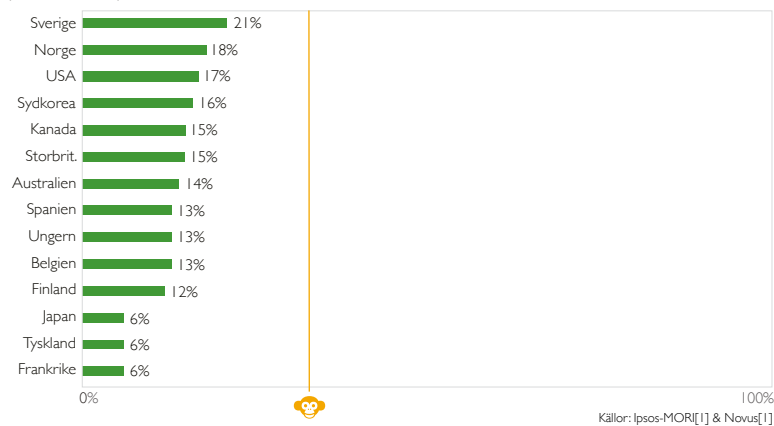
Idag finns det ungefär sju miljarder människor i världen. Vilken karta visar bäst var de bor? Varje figur representerar 1 miljard människor. (Rätt svar: se kartan nedan.)



Bild/diagram 134

RESULTAT FAKTAFRÅGA 9: andel som svarade rätt.

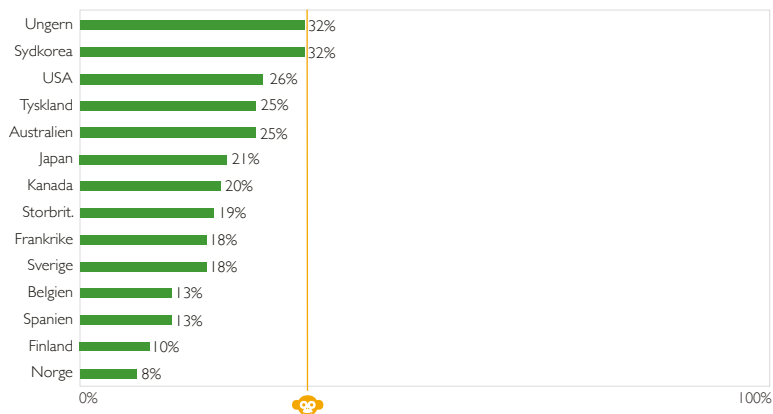
Hur många av världens barn har idag vid ett års ålder vaccinerats mot någon form av sjukdom?
(Rätt svar: 80%.)



Bild/diagram 135

RESULTAT FAKTAFRÅGA 10: andel som svarade rätt.

Globalt sett har 30-åriga män i genomsnitt gått 10 år i skolan. Hur många år har kvinnor i samma ålder gått i skolan? (Rätt svar: 9 år)

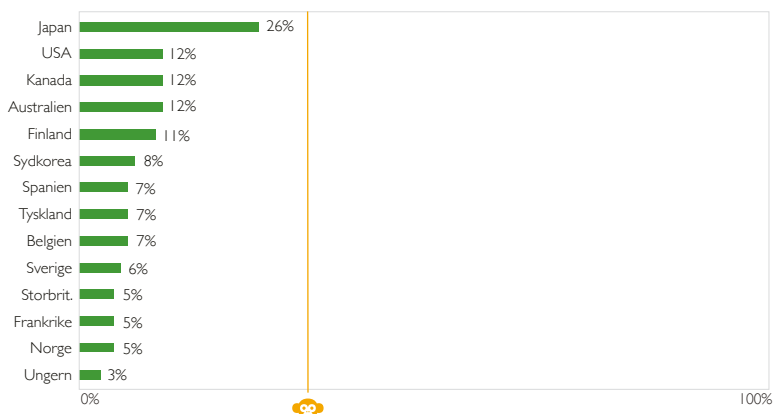


Källor: Ipsos-MORI[1] & Novus[1]

Bild/diagram 136

RESULTAT FAKTAFRÅGA 11: andel som svarade rätt.

Tiger, jättepanda och svart noshörning listades 1996 som utrotningshotade arter. Sedan dess, har någon av dessa arter blivit mer kritiskt utrotningshotad? (Rätt svar: Ingen av dem.)

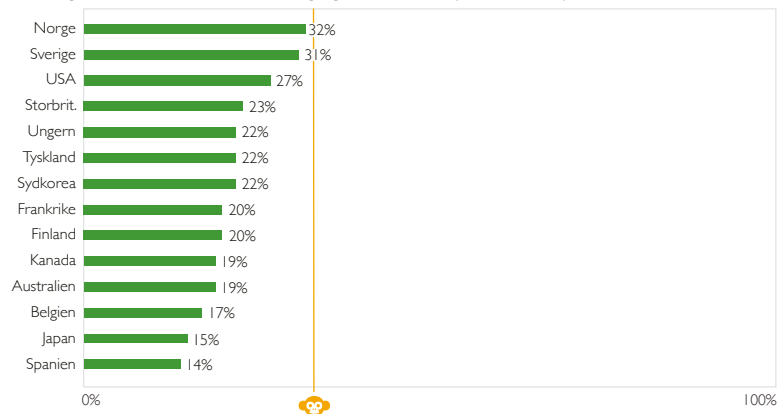


Källor: Ipsos-MORI[1] & Novus[1]

Bild/diagram 137

RESULTAT FAKTAFRÅGA 12: andel som svarade rätt.

Hur många människor i världen har viss tillgång till elektricitet? (Rätt svar: 80%)



Källor: Ipsos-MORI[1] & Novus[1]

Bild/diagram 138

RESULTAT FAKTAFRÅGA 13: andel som svarade rätt.

Globala klimatexperter förutspår att under de närmsta 100 åren så kommer medeltemperaturen i världen att bli: ...? (Rätt svar: ... varmare.)



Bild/diagram 139

BARA 10% SVARADE BÄTTRE ÄN SCHIMPANSER

Andel personer efter antal korrekta svar på de tolv frågorna. (12 000 personer i 14 länder.)

